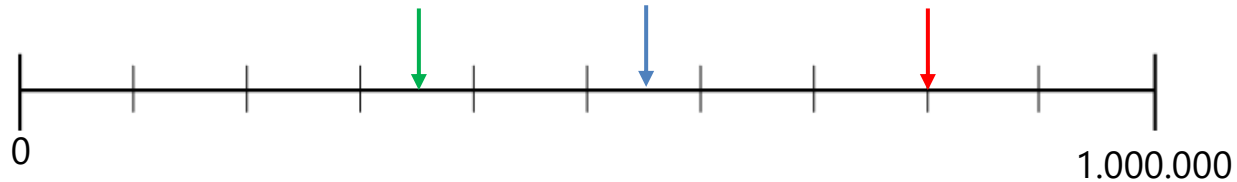


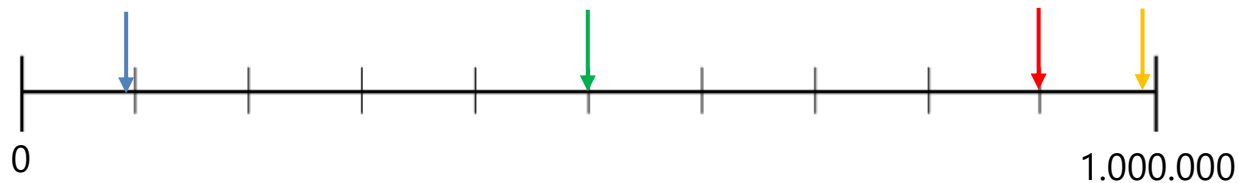
Getalbegrip

Ik kan de getallen tot een miljoen plaatsen op de getallenlijn.

- A.** Welke getallen wijzen de groene, blauwe en rode pijl aan?



- B.** Welke pijl wijst het getal '**0,9 miljoen**' aan?



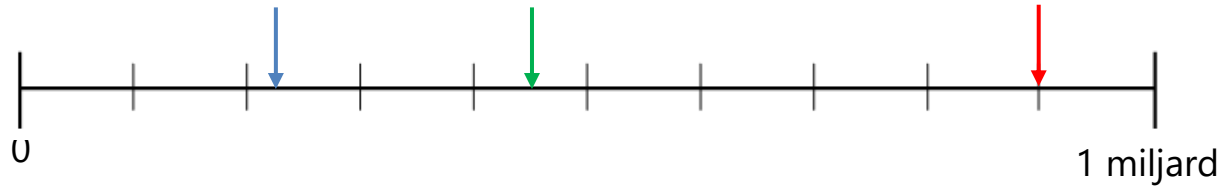
- C.** Welke pijl wijst het getal '**439.000**' aan?



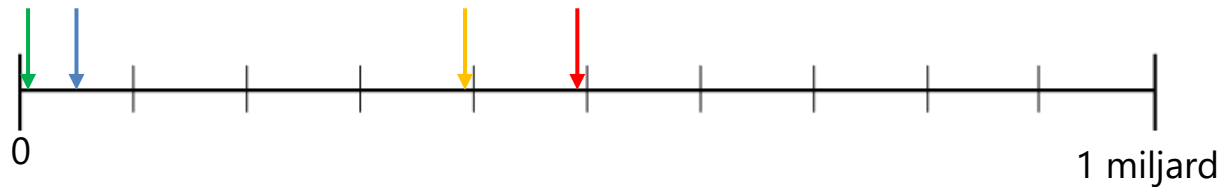
Getalbegrip

Ik kan de getallen tot een miljard plaatsen op de getallenlijn.

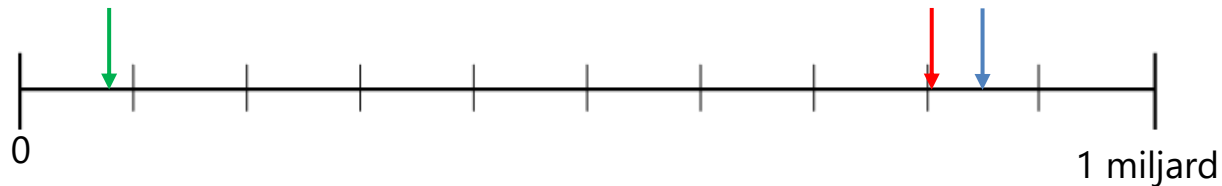
- A.** Welke getallen wijzen de blauwe, groene en rode pijl aan?



- B.** Welke pijl wijst het getal '**49 miljoen**' aan?



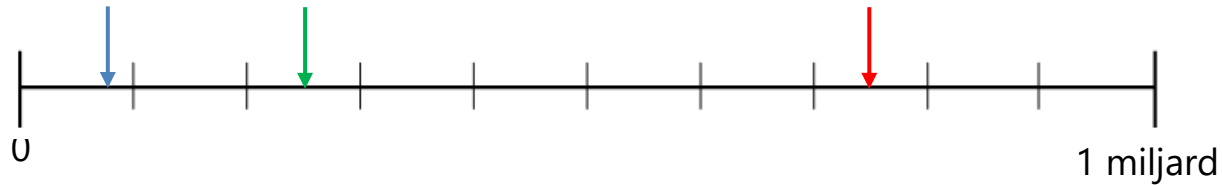
- C.** Welke pijl wijst het getal '**0,805 miljard**' aan?



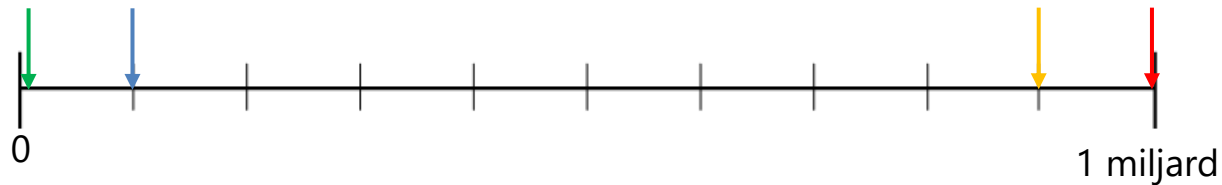
Getalbegrip

Ik kan de getallen tot een miljard plaatsen op de getallenlijn.

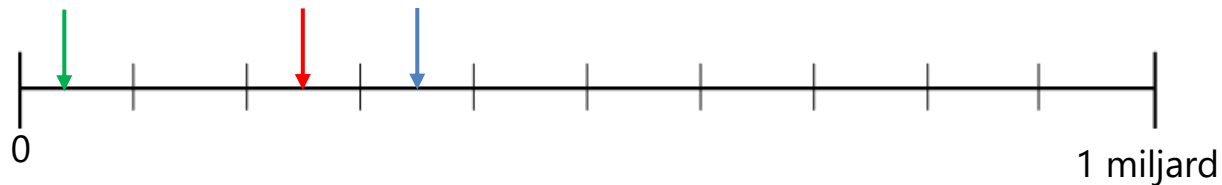
A. Welke pijl wijst het getal **'750 miljoen'** aan?



B. Welke pijl wijst het getal **'99.000.000'** aan?



C. Welke pijl wijst het getal **'0,35 miljard'** aan?



Getalbegrip

Ik kan de getallen tot een miljoen op volgorde zetten en plaatsen op de getallenlijn.

A. Waar horen de getallen op de getallenlijn?

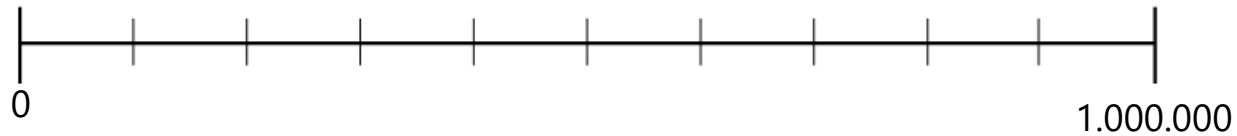
0,4 miljoen



569.999



98 duizend



B. Waar horen de getallen op de getallenlijn?

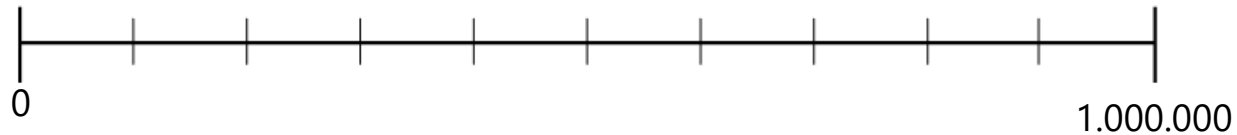
795.000



0,95 miljoen



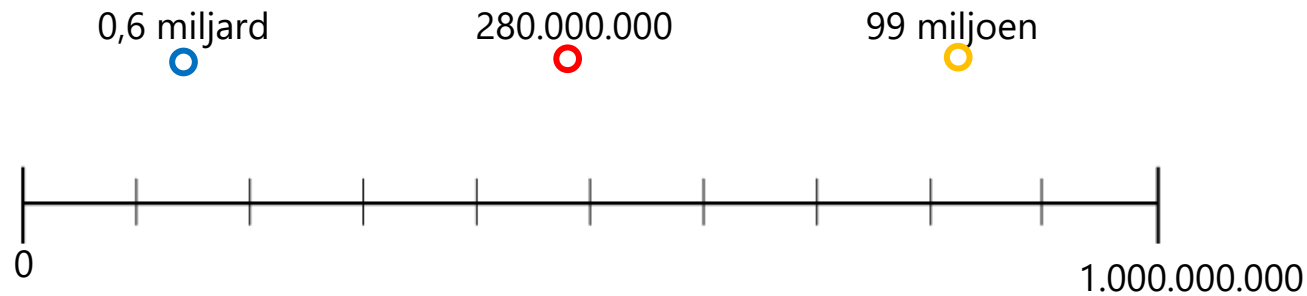
3,2 ton



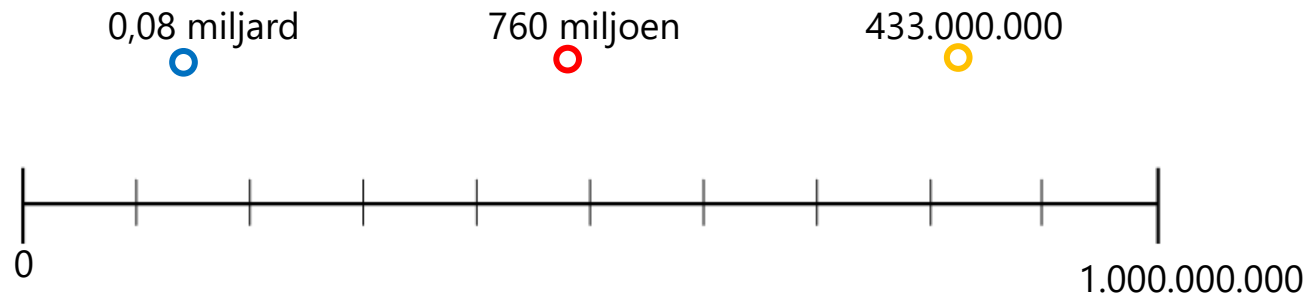
Getalbegrip

Ik kan de getallen tot een miljard op volgorde zetten en plaatsen op de getallenlijn.

A. Waar horen de getallen op de getallenlijn?



B. Waar horen de getallen op de getallenlijn?



Getalbegrip

Ik kan kommagetallen op volgorde van klein naar groot zetten.

- A. Zet de volgende getallen op volgorde van klein naar groot.

0,9	0,79	0,333	0,25

- B. Zet de volgende getallen op volgorde van klein naar groot.

0,65	0,8	0,785	0,0999

- C. Zet de volgende getallen op volgorde van klein naar groot.

0,1999	0,21	0,0222	0,202

Getalbegrip

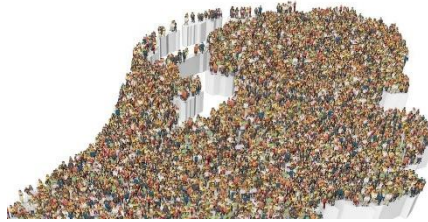
Ik kan (komma)getallen afronden.

A. Rond af op helen.



Een gemiddeld Nederlands gezin heeft 1,7 kinderen.

B. Rond af op een honderdduizendtal.



Nederland heeft 17.084.719 inwoners.

C. Rond af op een duizendtal.



De oppervlakte van Nederland is 42.508 m²

D. Rond af op tienden.



Gemiddeld fietst een Nederlander 2,48 km per dag.

E. Rond af op honderdsten.



Een Nederlander eet gemiddeld per jaar 1,8825 kg drop.

Getalbegrip

Ik kan (komma)getallen afronden.

A. Rond af op helen.



Ons land bestaat voor
18,41% uit water.

B. Rond af op tienden.



Mijn gemiddelde cijfer voor
wiskunde is een 6,937.

C. Rond af op een tienduizendtal.



Eind 2020 reden er 137.349
elektrische auto's rond in
Nederland.

D. Rond af op 1 cijfer achter de komma.



De afstand van de aarde tot de
zon is 149.597.871 km.
Dat is ... miljoen km.

E. Rond af op 2 cijfers achter de komma.



In 2019 is er voor € 563.414.573
gekocht aan boeken.
Dat is ... miljoen euro.