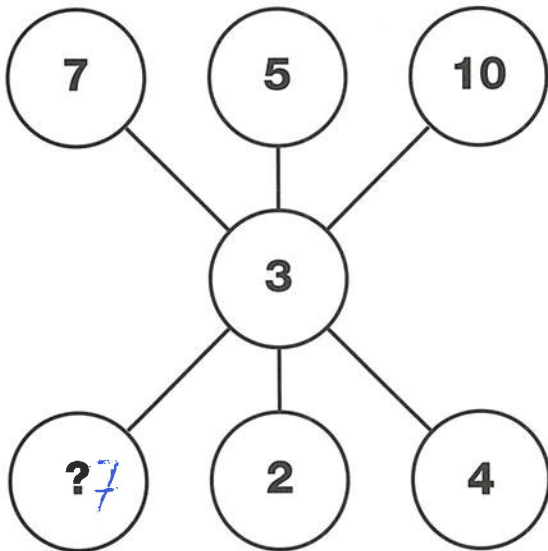


IQ **Uitdagingen**

1
PUZZEL

Welk cijfer ontbreekt?



2
PUZZEL

Welk cijfer maakt de puzzel compleet?

7	1	3	6
9	1	7	8
6	1	0	4
5	1	2	?

3
PUZZEL

Welk cijfer maakt deze reeks compleet?

4	6	8
3	4	5
1	5	?

4
PUZZEL

Wat moet er logischerwijs op de plaats van het vraagteken komen?


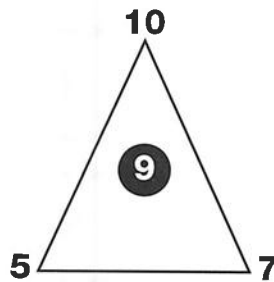
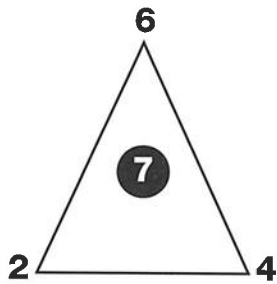
L	36	C
F	30	E
D	28	?

N
I
V
E
A
U

1

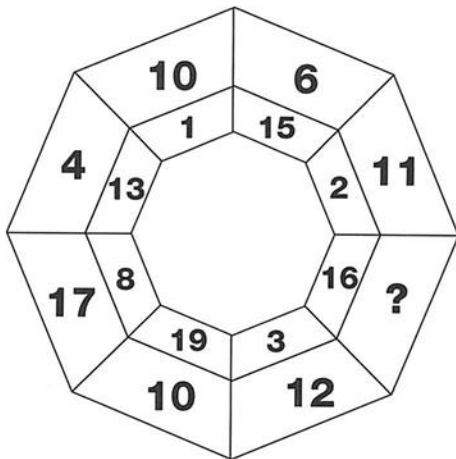
**5
PUZZEL**

Welk cijfer moet logischerwijs op de plaats van het vraagteken komen?




**6
PUZZEL**

Welk getal ontbreekt?



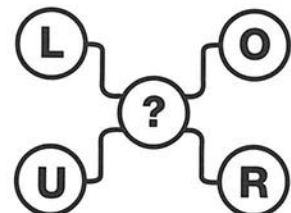
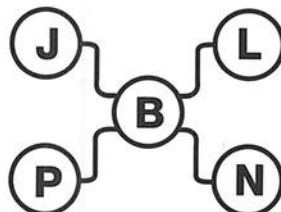
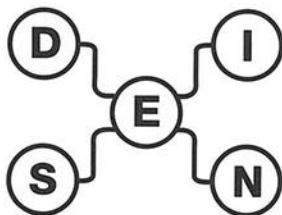
**7
PUZZEL**

Welk getal maakt de puzzel compleet?



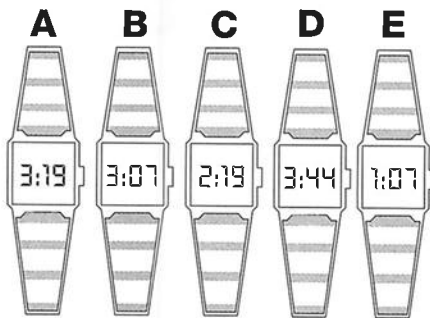
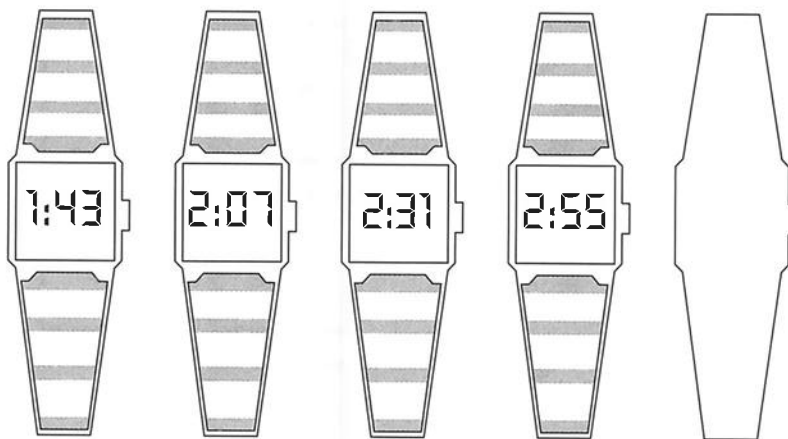
**8
PUZZEL**

Welke letter moet op de plaats van het vraagteken komen?



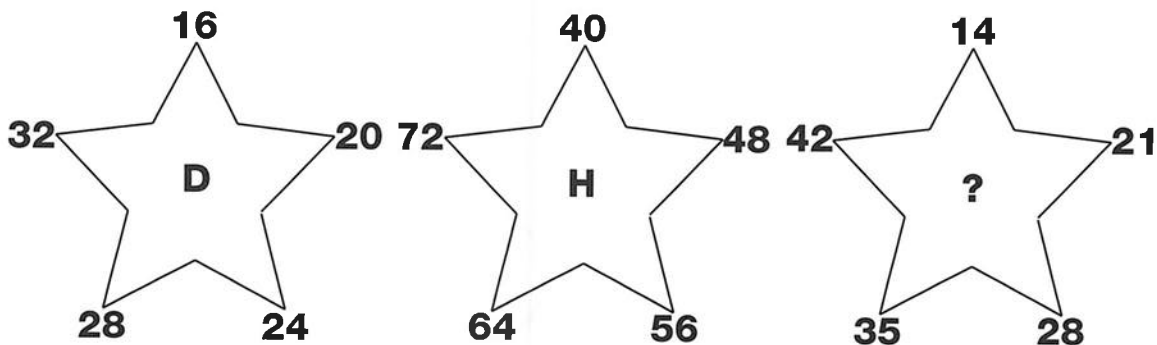
13
PUZZEL

Welk van de horloges A-E moet in de lege ruimte komen?



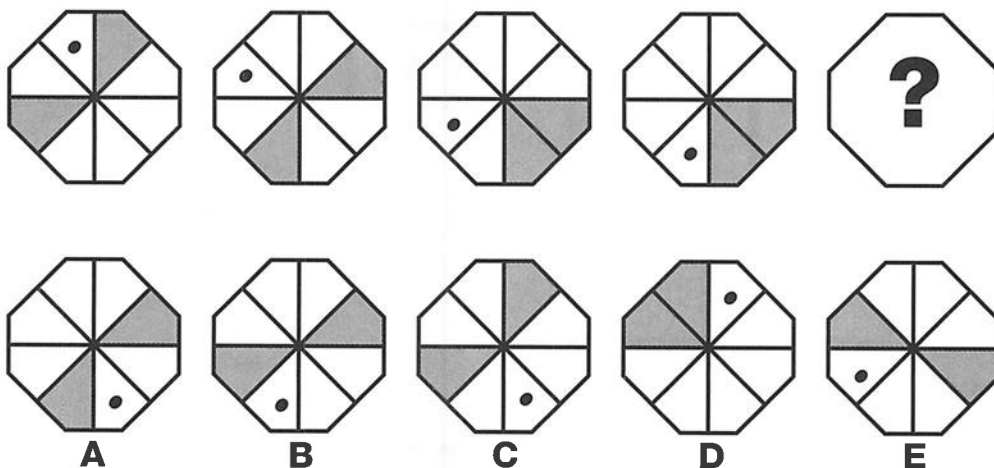
14
PUZZEL

Welke letter moet er op de plaats van het vraagteken in de laatste ster komen?




20
PUZZEL

Welk patroon maakt deze reeks compleet?




21
PUZZEL

Welk van de zes onderstaande patronen maakt de reeks compleet?



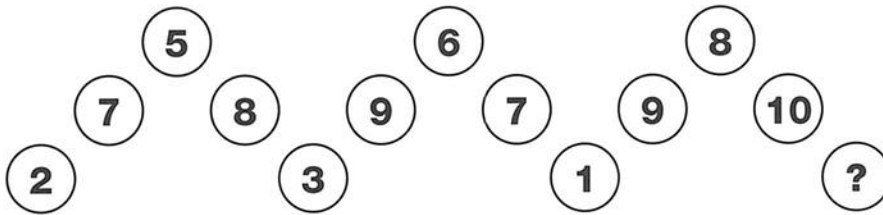
22
PUZZEL

Welke speelkaart moet in de laatste lege ruimte komen?




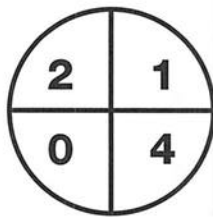

23
PUZZEL

Welk cijfer maakt de puzzel compleet?




24
PUZZEL

Welk cijfer ontbreekt in de laatste cirkel?



26
PUZZEL

Hieronder vormen acht munten een vierkant met drie munten aan elke gelijke zijde. Kunt u een vierkant met vier munten aan elke zijde maken door vier munten te verplaatsen?



25
PUZZEL

Welke letter maakt de puzzel compleet?




27
PUZZEL

Welk cijfer moet op de plaats van het vraagteken komen om de reeks compleet te maken?




28
PUZZEL

Welke figuur moet op de plaats van het vraagteken komen?



29
PUZZEL


Welke dominosteen maakt de volgende reeks compleet?





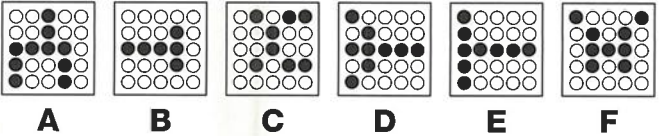

1
PUZZEL

Welk cijfer moet in de lege cirkel komen?



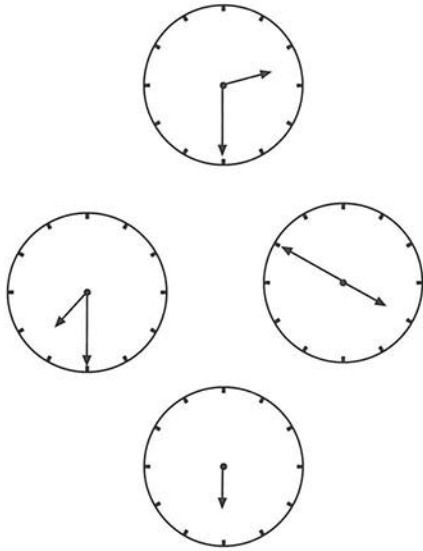
2
PUZZEL

Welke van de figuren A-F moet logischerwijs na onderstaande figuren komen?



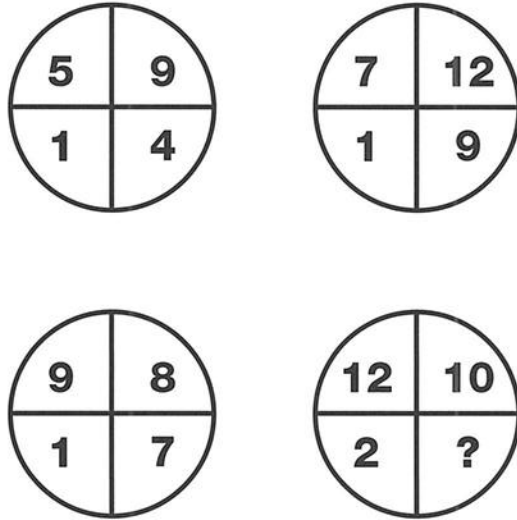
3
PUZZEL

Waar staat de ontbrekende wijzer?




4
PUZZEL

Welk getal ontbreekt in de laatste cirkel?




5
PUZZEL

Welke letter maakt de puzzel compleet?



6
PUZZEL

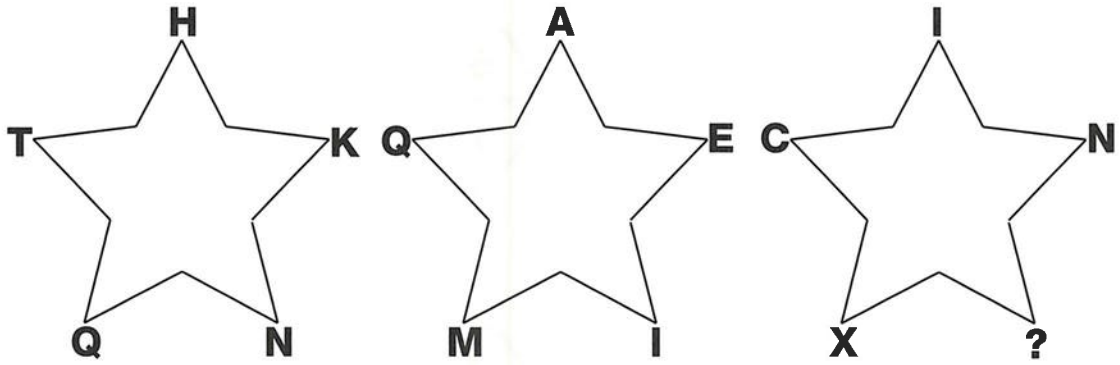
Welk cijfer maakt de puzzel compleet?





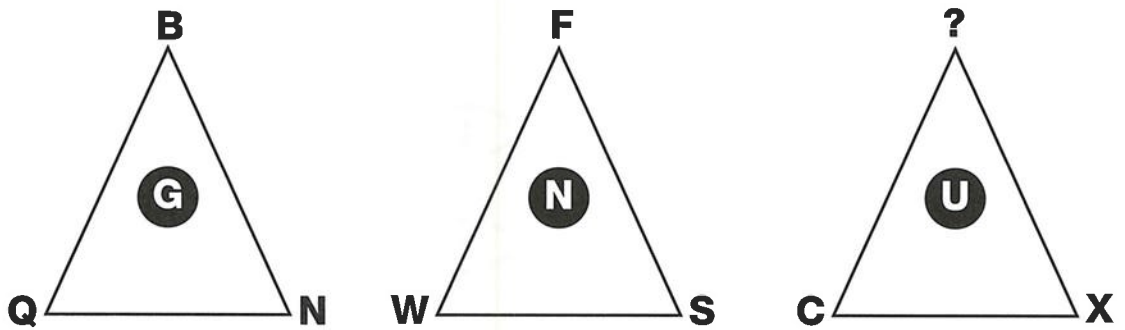
7
PUZZEL

Welke letter moet op de plaats van het vraagteken komen?



8
PUZZEL

Welke letter moet op de plaats van het vraagteken komen?



13
PUZZEL

Welk getal maakt onderstaande reeks compleet?

- 2
- 6
- 14
- 30
- ?

14
PUZZEL

Welk cijfer moet op de plaats van het vraagteken komen?

7	9	11
6	3	4
4	5	?

15
PUZZEL


Welk van de horloges A-E moet in de lege ruimte komen?



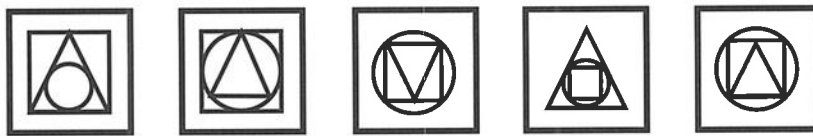
- A**
11:24
- B**
9:32
- C**
7:42
- D**
9:44
- E**
9:28

16
PUZZEL

Welk patroon moet op de plaats van het vraagteken komen?

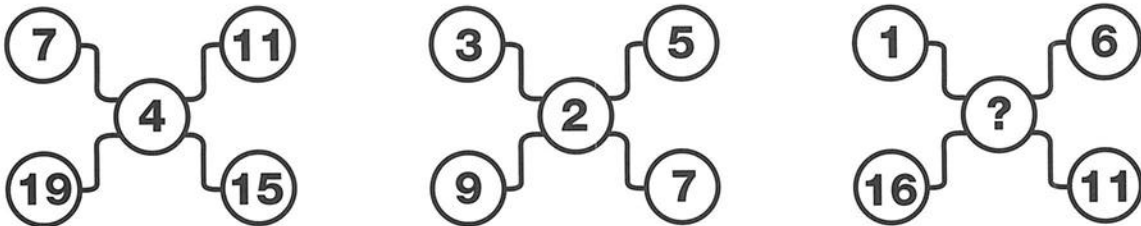


1 2 3 4 5



17
PUZZEL

Welk cijfer ontbreekt op de plaats van het vraagteken?



N I V E A U



2



**18
PUZZEL**

Welke letter moet in deze reeks op de plaats van het vraagteken komen?

P N

T R

X V

B Z

F D

J ?

**20
PUZZEL**

Welk getal maakt deze getallenreeks compleet?

21 28 35 42 ?

**19
PUZZEL**

Welk getal moet op de plaats van het vraagteken komen?

12 15 18

20 24 28

30 35 ?

**21
PUZZEL**

Welk cijfer hoort in de cirkel rechtsonder?

2 0 9

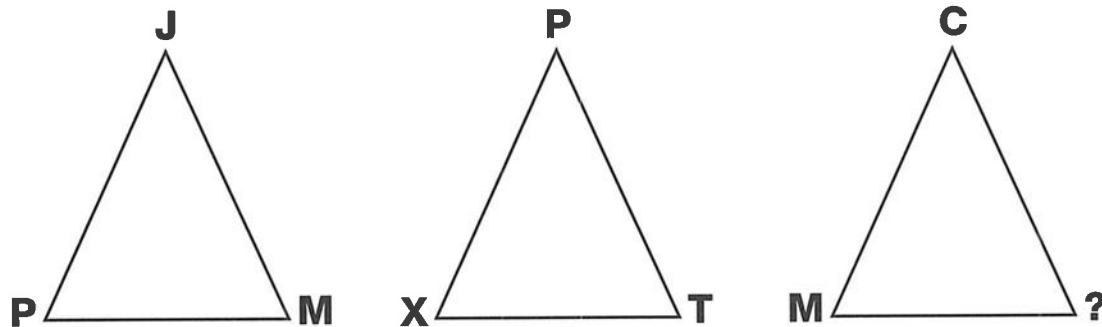
23

1 8 ?

22

PUZZEL

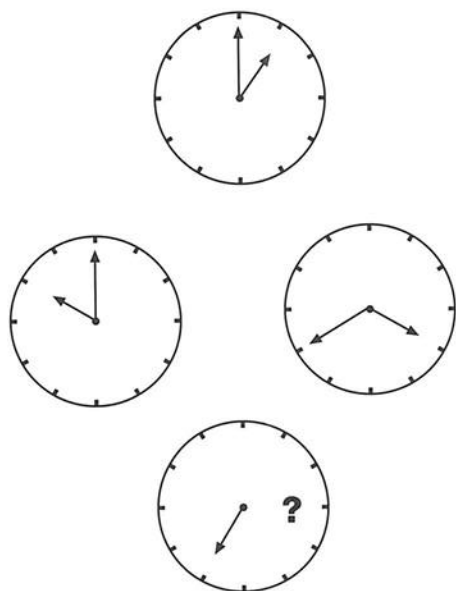
Welke letter ontbreekt bij de laatste driehoek?



23

PUZZEL


Waar staat de wijzer van de laatste klok?



24

PUZZEL

Welke letter moet op de plaats van het vraagteken komen?

N
I
V
E
A
U

2



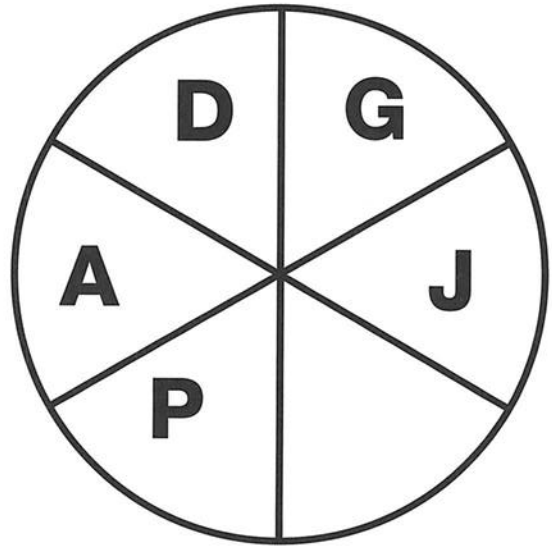
25
PUZZEL

Welk getal maakt deze getallenreeks compleet?



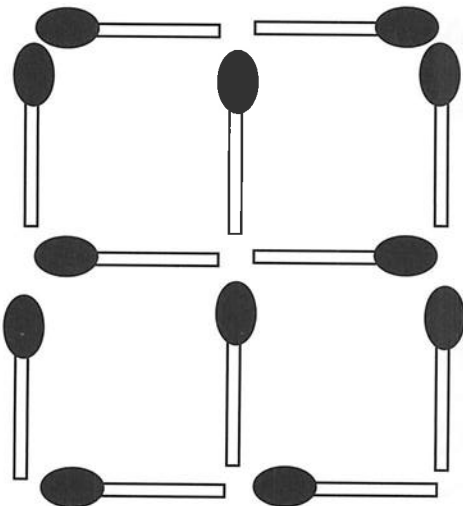
26
PUZZEL

Welke letter ontbreekt in deze cirkel?



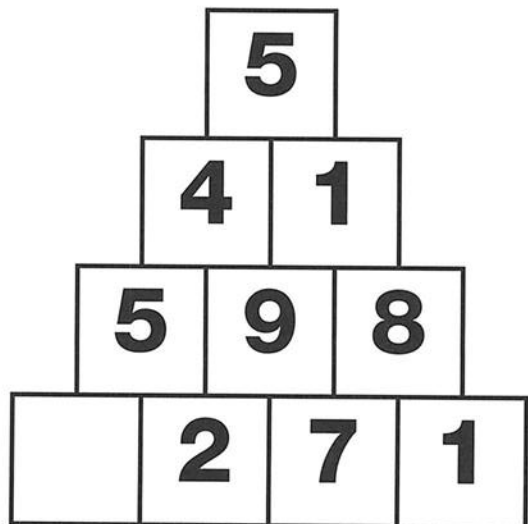
27
PUZZEL

Kunt u door het verplaatsen van twee lucifers zeven vierkanten maken?



28
PUZZEL

Welk cijfer ontbreekt in onderstaande piramide?





**4
PUZZEL**

Welk getal maakt de reeks compleet?

3

4

7

11

?

**6
PUZZEL**

Welk cijfer ontbreekt in de cirkel rechtsonder?

4

8

9

9

2

1


5

6

?

**5
PUZZEL**

Welk getal vormt de top van de piramide?



**7
PUZZEL**

Welk cijfer moet op de plaats van het vraagteken komen?

2

9

7

5

7

2

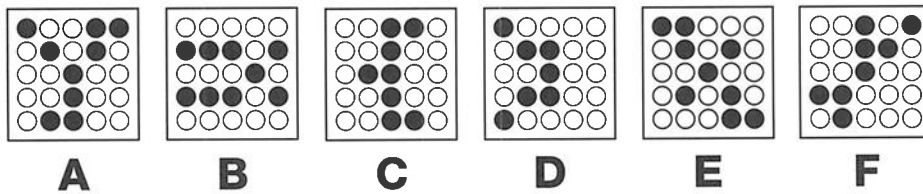
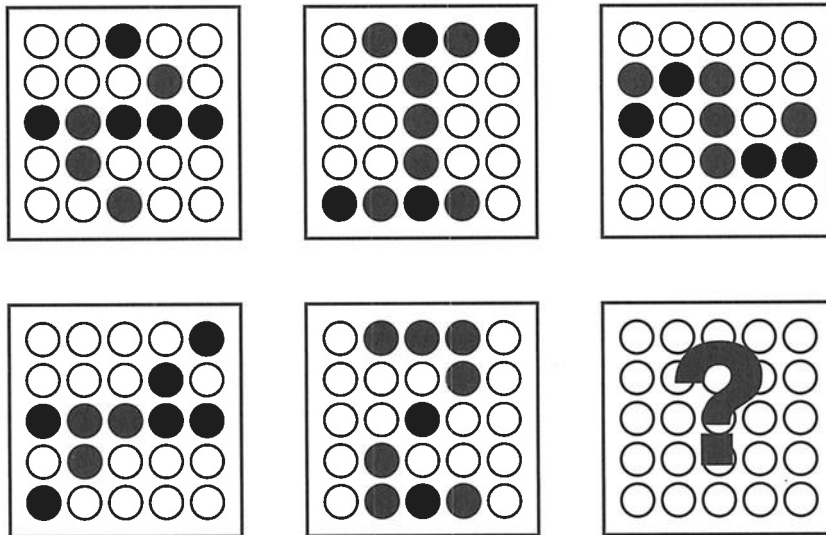
6

7

?

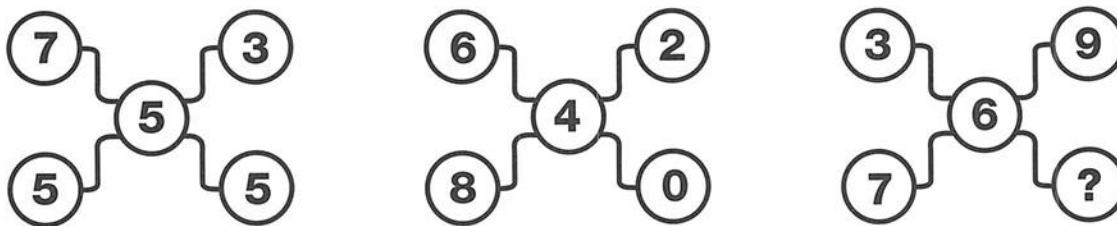
8 PUZZEL

Welk van de patronen A-F moet op de plaats van het vraagteken komen?



9 PUZZEL

Welk cijfer ontbreekt in de laatste figuur?




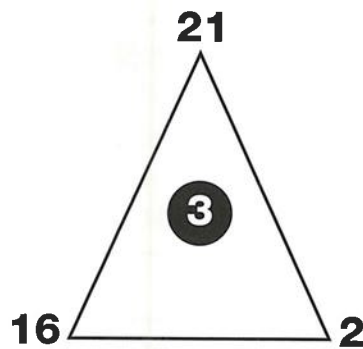
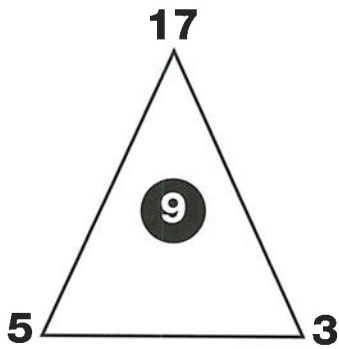
NIVEAU

3

29

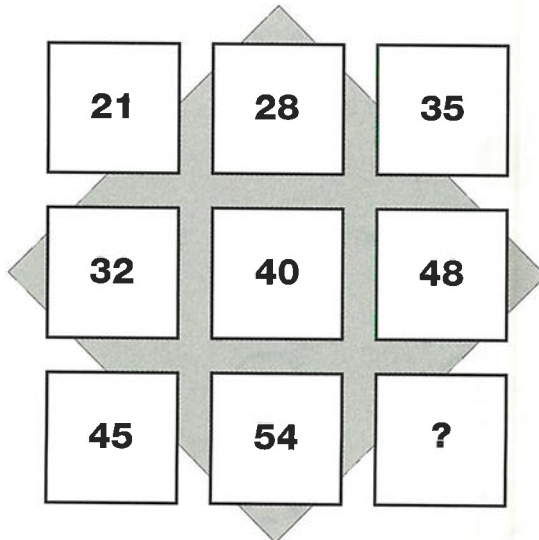
**10
PUZZEL**

Welk cijfer hoort in de laatste driehoek?



**11
PUZZEL**

Welk getal moet op de plaats van het vraagteken komen?



**12
PUZZEL**

Welk cijfer maakt deze getallenreeks compleet?

