

1,2,3,4,5,6,7,8,9,10

Tellen

1. Hoeveel blokjes tel je?

1	2	3	4	5	6
---	---	---	---	---	---

Wijs het juiste cijfer aan



2. Tel hardop de blauwe blokjes

3. Welk getal hoort daarbij en wijs dat aan.





Meer, minder, evenveel

1. Tel hardop de roze inktvisjes (1,2,3,4,5)
2. Tel hardop de bloemetjes (1,2,3)
3. Wat is dan meer? En wijs dat aan.






Meer, minder, evenveel

1. Tel hardop de krokodillen (1,2,3,4)
2. Tel hardop de olifanten (1,2,3,4,5,6)
3. Wat is dan minder? En wijs dat aan.



Meer, minder, evenveel

1. Tel hardop de zwanen (1,2,3,4,5)
2. Tel hardop de paarden (1,2,3,4)
3. Tel hardop de hanen (1,2,3,4,5)
3. Van welke dieren zijn er evenveel? En wijs dat aan.



Hoeveel van elk?

1. Je wijst ieder plaatje aan en telt hardop mee.
2. Hoeveel ballen tel je dan?



1



2



3

3. Zo kun je verder tellen: 1,2,3,4,5,6,7,8,9,10



Splitsen van 5

1. Je kunt het getal 5 splitsen in groepjes
2. Kijk maar naar het volgende rijtje

5	
5	
0	

	5		0
	4		1
	3		2
	2		3
	1		4
	0		5



Verliefde harten van 10

Getallenparen vormen samen 10

Welke sommen kunnen bij de 10 horen?

10

1	9
2	8
3	7
4	6
5	5

een dus
ook

10

9	1
8	2
7	3
6	4



Verliefde harten van 10

Getallenparen vormen samen 10

Welke sommen kunnen bij de 10 horen?

$1+9$	$2+8$	$3+7$	$4+6$	$5+5$
$9+1$	$8+2$	$7+3$	$6+4$	



Vrienden van 20

Getallenparen vormen samen 20

Bedenk welke sommen bij de 20 kunnen horen?

20

10	10
11	9
12	8
13	7
14	6
15	5

en dus
ook

20

19	1
18	2
17	3
16	4



Vrienden van 20

Tweelingen tot 20

$$1+1=2$$

$$2+2=4$$

$$3+3=6$$

$$4+4=8$$

$$5+5=10$$

$$6+6=12$$

$$7+7=14$$

$$8+8=16$$

$$9+9=18$$

$$10+10=20$$

Tellen tot 20

1. Tel hardop mee.

1	2	3	4	5	6	7	8	9	10
---	---	---	---	---	---	---	---	---	----

11	12	13	14	15	16	17	18	19	20
----	----	----	----	----	----	----	----	----	----

2. Vul daarna de ontbrekende getallen in. Doe dat ook hardop.

1	2		4	5	6		8		10
---	---	--	---	---	---	--	---	--	----

11		13	14	15		17	18	19	20
----	--	----	----	----	--	----	----	----	----



Tellen tot 50

Wijs met je vinger de getallen aan en tel hardop mee.

1	2	3	4	5	6	7	8	9	10
11	12	13	14	15	16	17	18	19	20
21	22	23	24	25	26	27	28	29	30
31	32	33	34	35	36	37	38	39	40
41	42	43	44	45	46	47	48	49	50

Denk ook maar eens aan het spel ganzenbord.

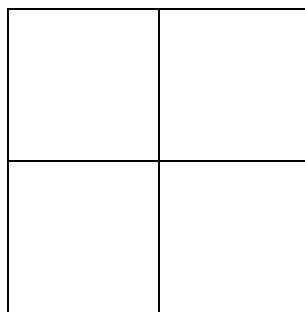
Tellen tot 100

Tel hardop mee!


1	2	3	4	5	6	7	8	9	10
11	12	13	14	15	16	17	18	19	20
21	22	23	24	25	26	27	28	29	30
31	32	33	34	35	36	37	38	39	40
41	42	43	44	45	46	47	48	49	50
51	52	53	54	55	56	57	58	59	60
61	62	63	64	65	66	67	68	69	70
71	72	73	74	75	76	77	78	79	80
81	82	83	84	85	86	87	88	89	90
91	92	93	94	95	96	97	98	99	100

Blokkenbouwsels

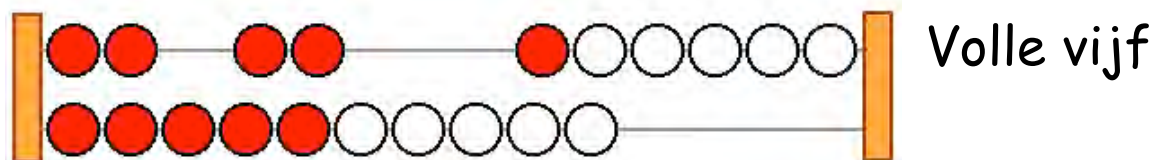
1. Kijk goed naar iedere laag, doe net alsof je echt aan het bouwen bent.
2. Je kijkt er bovenop
3. Hoeveel blokken heeft iedere laag dan?



onderste laag

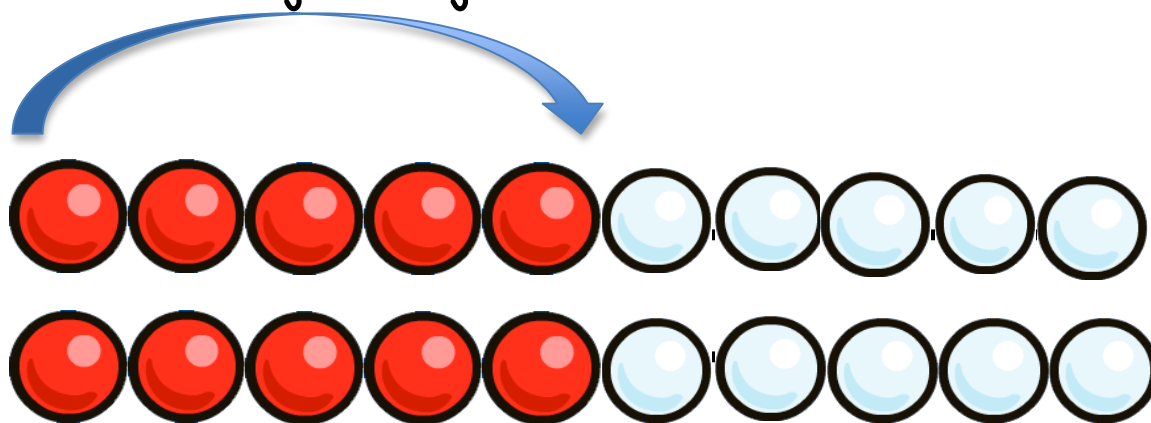


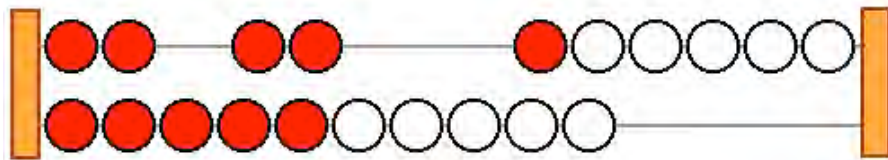
bovenste laag



Makkelijk tellen met de volle vijf

1. De volle vijf ken je van het telraam.



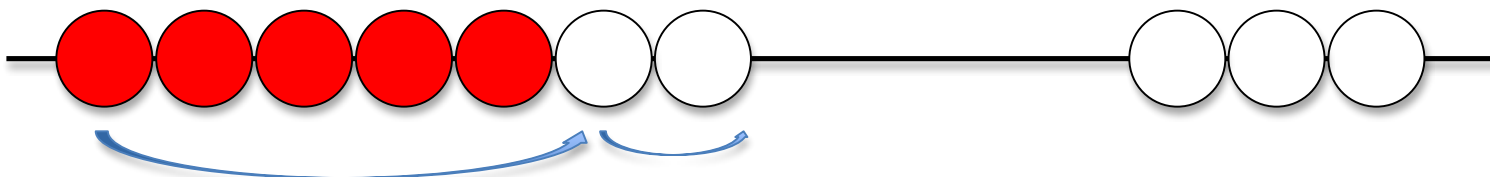


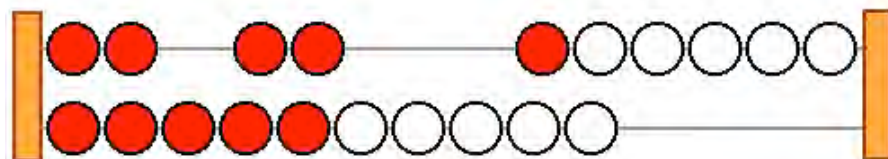
Volle vijf



Makkelijk tellen met de volle vijf

Het getal 7 kun je zo tellen op het rekenrek:

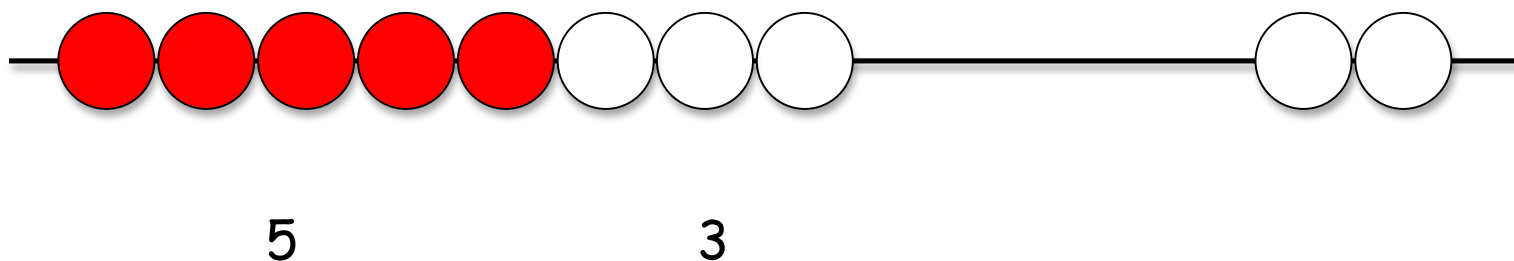





Volle vijf

Makkelijk tellen met de volle vijf


Het getal 13 kun je zo tellen op het rekenrek:






Tijd: Hoe laat is het?

1. Kijk goed naar de klok
2. Let op waar de grote wijzer staat.
3. Staat de grote wijzer op de 12, dan zijn het hele uren.
4. Waar wijst de kleine wijzer naar?



1 uur



5 uur




Tijd: Hoe laat is het?

1. Kijk goed naar de klok
2. Let op waar de grote wijzer staat.
3. Staat de grote wijzer op de 6, dan zijn het halve uren.
4. Kijk goed waar de kleine wijzer naar toe gaat.



half 2



half 6



De kalender: dagen, weken, maanden, jaar


De week heeft 7 dagen:
Soms onthoud je het beter
als je er een liedje bij
bedenkt.




Maandag



Dinsdag



Woensdag




Donderdag



Vrijdag



Zaterdag



Zondag





De kalender: dagen, weken, maanden, jaar

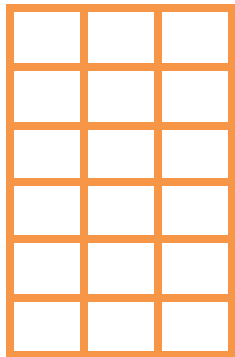
Een jaar heeft 12 maanden:



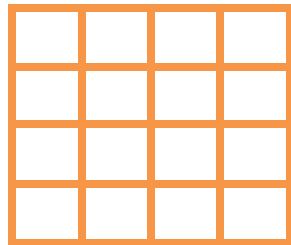


Meten: Welk vlak in het grootste?

1. Tel bij het eerste vlak alle vierkantjes.
2. Tel daarna bij het tweede vlak alle vierkantjes.
3. Welk vlak had de meeste vierkantjes? Dat is het grootst.



20



16



Geld: alle euromunten op een rij


							
1 eurocent	2 eurocent	5 eurocent	10 eurocent	20 eurocent	50 eurocent	1 euro	2 euro

1. Pak de plastic muntenbak erbij.





Geld: Alle bankbiljetten op een rij



Getallen schrijven


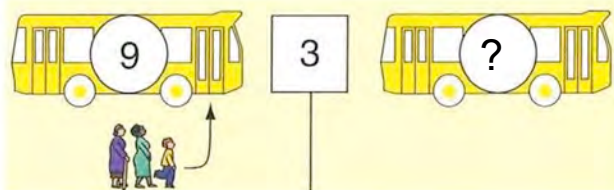
Hoe schrijf je getallen die je hoort?

1. Het getal dat je het laatst hoort, schrijf je het eerst.
2. Hoor je vierentwintig (24), dan schrijf je eerst de 2 van twintig en dan de 4.



Bussommen

Bussommen: erbij

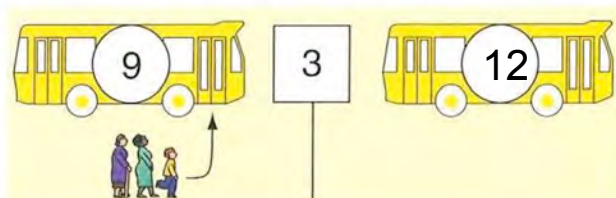


1. Hoeveel mensen zitten er in de bus? Tel hardop.

9

2. Hoeveel mensen stappen er in de bus? Tel hardop. 3

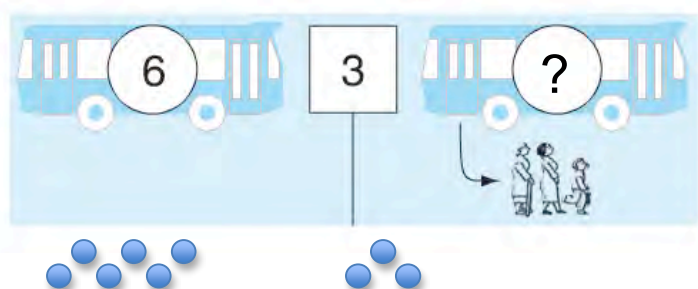
3. Tel nu deze twee getallen bij elkaar, dan weet je hoeveel er nu in de bus zitten.



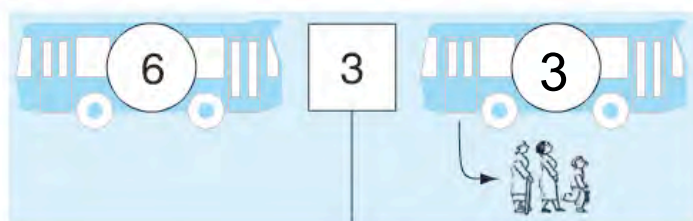
$$9+3=12$$

Bussommen

Bussommen: eraf



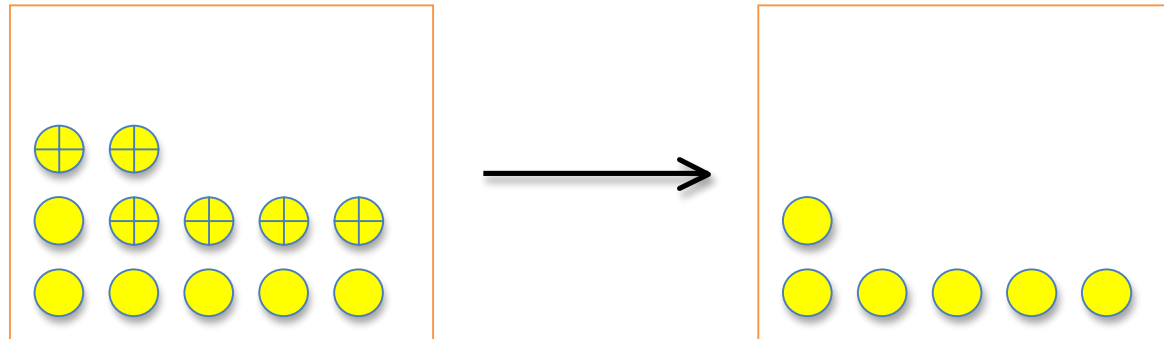
1. Hoeveel mensen zitten er in de bus? Tel hardop. 6
2. Hoeveel mensen stappen uit de bus? Tel hardop. 3
3. Hoeveel mensen blijven er over? Trek de twee getallen van elkaar af.




$$6 - 3 = 3$$



Hoeveel minder?



Streep de gele ballen in het eerste blokje door die je in het tweede blokje niet ziet.




Rijtjes van 5

Hoeveel zijn eruit?

Hoeveel sterren zijn er uit de kist?

1. Maak rijtjes van 5.
2. Hoeveel zou je erbij kunnen tellen?
3. Dan weet je ook hoeveel er uit zijn.





Doortellen

Hoeveel zitten er in?

Hoeveel appels zitten er in de zak?

1. Begin met de eerste appels te tellen.
2. Schrijf dan 3 op.
3. Dan tel je verder in de zak door de appels erin te tekenen, net zolang totdat je bij het getal onder de streep bent.

